

Cahier

École

Classe

Nom élève 0238



Université de Limoges
SCD
Histoire de l'éducation


cahier n° 0012

élève 0238

année 1964-65

né le 21 Décembre 1955

Cahier de classement



Compositions de Septembre - Octobre 1964

Histoire

Un général romain (Jule Sé, Jules César) conquiert la Gaule, la Gaule. Les Gaulois luttent sous les ordres de leur chef vercingétorix. Plus tard Clovis, roi des Francs, devient maître de toute la Gaule avec l'aide des évêques. Les Arabes qui menaçaient la Gaule sont arrêtés à en . Charlemagne devient empereur d'Occident. Il est couronné à Rome en l'an 800.

Géographie

Dans une carte en courbes de niveau, plus les courbes sont rapprochées, plus la pente est forte. Les terrains qui n'ont pas été recouverts par les mers sont formés de granit. Les terrains calcaireux se sont formés au fond des mers. Les quatre éléments du sol sont le sable, l'argile, le calcaire ~~l'humus~~ ^{l'humus}.

Les terrains argileux ~~perméable~~, les terrains calcaires sont imperméable

Observation

- 2
5
- Pour préparer de la chaux on ~~faire~~ fait fondre du calcaire
 - Quand on verse de l'eau sur de la chaux vive elle se transforme en pâte
 - Pour préparer de l'eau de chaux on ~~fait fondre~~ du calcaire et on ajoute une goutte d'eau
 - Si l'on souffle dans l'eau de chaux l'eau se trouble, trouble
 - ce qui montre que nous rejetons du gaz carbonique
 - Pour préparer du gaz carbonique on verse du diqui dila puis on verse de l'eau pour le faire circuler et on n'a du gaz carbonique
- 9

Rédaction

Vous avez fait un rêve qui vous a laissé, au réveil, une forte impression. Racontez.

J'étais devant une vitrine ornée de montres argentées, et l'une était -si belle que je ne cessais de l'admirer. Mais l'horloger arriva pour fermer le magasin. Je revins à la maison tout en pensant à la montre.

5
10
Je me mis dans mon lit et je m'endormis en pensant toujours à la montre. Le jour suivant je me retrouvai devant le magasin d'horlogerie. Mon papa et ma (maman) maman (entrent dans le magasin) entrèrent dans le mc. magasin. Je me précipitai, je demandai à ma maman si elle voulait m'acheter la montre. Elle réfléchit et elle me répondit oui / je sautais de joie je dis merci heureux d'avoir ma montre

Qu'est-ce qui est le rêve ?

Année 1964-65

CLASSEMENT de SEPTEMBRE - OCTOBRE

| | | |
|------------------|---------|------|
| CALCUL..... | sur 20: | 10,5 |
| DICTÉE..... | sur 10: | 1 |
| QUESTIONS..... | sur 20: | 18,5 |
| REDACTION..... | sur 10: | 5 |
| LECTURE..... | sur 10: | 5 |
| HISTOIRE..... | sur 5: | 3,5 |
| GEOGRAPHIE..... | sur 5: | 3,5 |
| OBSERVATION..... | sur 5: | 2 |
| RECITATION..... | sur 5: | 3 |
| ECRITURE..... | sur 5: | 4,5 |
| APPLICATION..... | sur 5: | 3,5 |

TOTAL sur 100 points..... 60

MOYENNE sur 10 points..... 6.

CLASSEMENT: 11^e sur 30 Elèves classés.

Les faiblesses en calcul

LES PARENTS

signature des parents
élève 0238

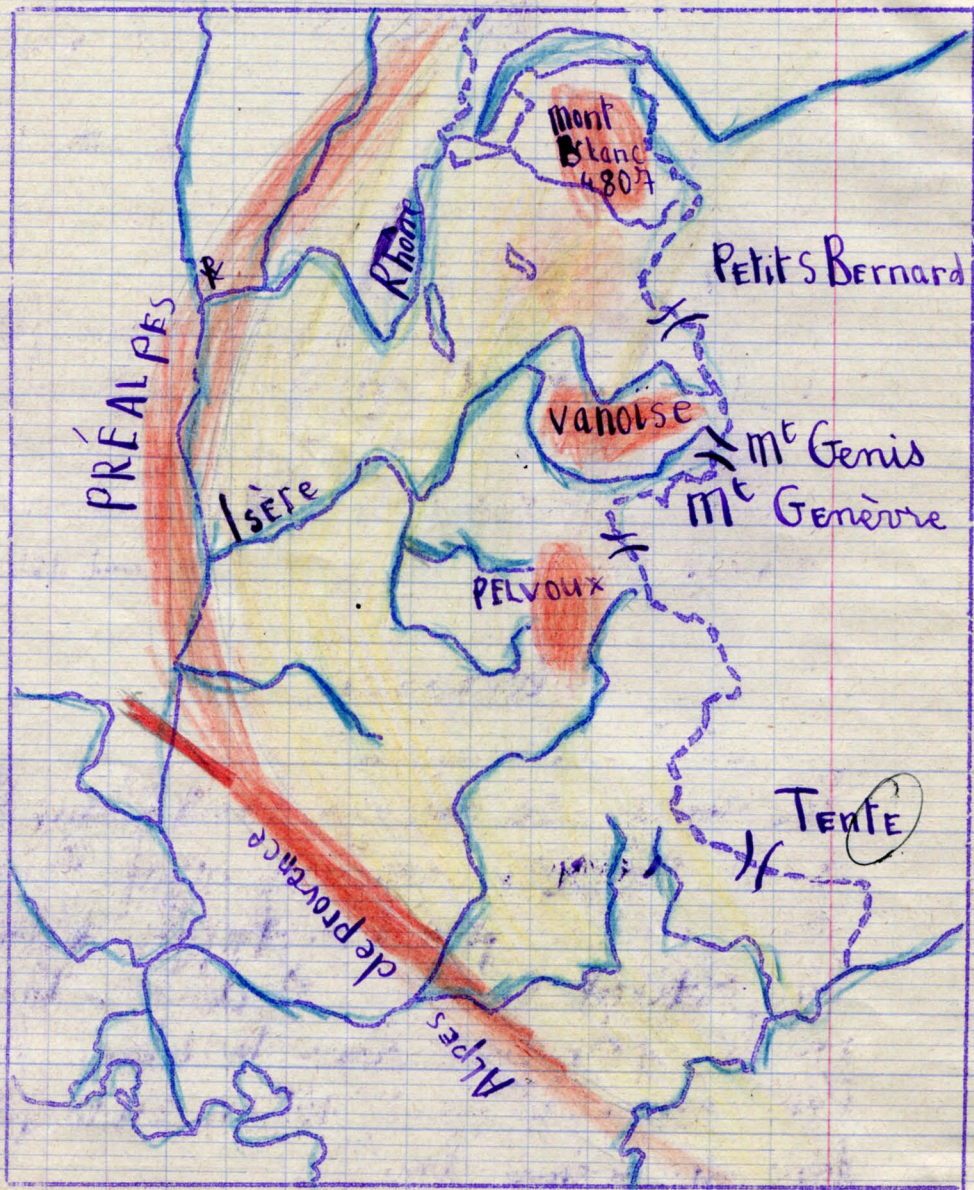
Compositions de Novembre-Décembre

Rédaction

Construisons un paragraphe. Un jeu: l'attaque de la diligence.

3
10

Dans une ville d'Amérique, fabriquons un chariot en diligence pour s'amuser à l'attaque de la diligence. Du matériel dans la diligence, nos armes et nos munitions dans des valises, nous nous couchons un à côté de l'autre. Le vent sifflet, sifflet, les ennemis crient à côté de la diligence. « Attention! » crions nous au conducteur de la diligence et nous chuchotons tous doucement pour sortir de cette affaire. À l'instant où nous nous sentons perdus prise une troupe de chasseurs nous sauta



Histoire

Les noms de 3 grands rois Capétiens:
Philippe Philippe le Bel, _____,

À partir de l'an 1000 se construisent
de solides églises romanes puis de B. belles
cathédrales gothiques

1214: prise de ~~Calais~~ par le hongai (édouard III)

1270: ~~édouard III~~ assiège la France

1346: Orléans est délivré par Jeanne d'Arc

1431: Jeanne d'Arc est brûlée vive à Rouen

1453: fin de la guerre de cent 100 ans

Observation

Le sucre se dissout dans l'eau. La vapeur
d'eau se évapore sur une carafe li. glacée.

Les météaux que l'on chauffe se atomosphère.

On obtient le point 0 d'un thermomètre
en le plongeant dans la glace fondante.

On obtient le point 100 en le plongeant
dans de l'eau bouillante.

CLASSEMENT de NOVEMBRE - DECEMBRE

| | |
|----------------------------|-----|
| DICTEE.....sur 10..... | 2 |
| QUESTIONS.....sur 20..... | 12 |
| CALCUL.....sur 20..... | 8 |
| REDACTION.....sur 10..... | 3 |
| LECTURE.....sur 10..... | 5 |
| GEOGRAPHIE.....sur 5..... | 3,5 |
| HISTOIRE.....sur 5..... | 2,5 |
| OBSERVATION.....sur 5..... | 2,5 |
| RECITATION.....sur 5..... | 2 |
| ECRITURE.....sur 5..... | 4 |
| APPLICATION.....sur 5..... | 3 |

TOTAL sur 100 points..... 47,5

MOYENNE sur 10 points..... 4,75

CLASSEMENT: 14^e sur 27 élèves classés.

Paralle

LES PARENTS signature des parents
élève 0238

Mardi 2 Mars

Composition d'histoire

Les ⁴guerres de religion

Leur cause était l'hostilité qui régnait entre les catholiques et les protestants. Charles IX en __, mal conseillé par sa mère, __, ordonna de massacrer tous les protestants de Paris la nuit de la saint Bartélimy.

Les guerres de religion furent arrêtées par le roi Henri. XI en 1559 par la publication de l'édit de Nantes. Aidé par son ministre, Sully, il rend la France prospère et forte.

Mercredi 3 Mars

Composition de rédaction

△: Je me déguise pour Mardi Gras, il faisait encore nuit et je me réveillais tout en pensant que s'était le jour où je me déguisais. Ma maman avait caché dans une valise mon habit. Le matin arrivé, je m'étais mis à chercher dans tous les coins de la maison mais pas dans la chambre de ma maman. Ma mère se leva et me dit:

8
«voilà ton déguisement», Je me hâtai de voir
ce qu'il y avait dans la valise, elle l'ouvrit
et je vis l'habit de Zorro. Je me préparais
et je partais de la maison. L'heure arrivée je défilais
devant une foule innombrable qui me regard~~é~~ passer.
Peu après je revenais chez moi, heureux.

Composition d'observation

L'appareil digestif

2,5
5
L'appareil digestif est composé, de haut en bas
de la gorge qui contient les bronches, de l'abdomène
qui va jusqu'à l'estomac, du petit puis du gros
intestin. Le foie produit la

les 3 sortes de dents sont: les incisives, les canines,
les molaires

Composition de géographie

Le Bassin Parisien

Expliquez le terme Bassin

Expliquez le terme "côte" (ex les côtes de champagne)

Citez 2 plaines du centre du Bassin Parisien.

1 bassin veut dire = qu'il a la forme d'une cuvette

3,5

5

côte veut dire :

les 2 plaines sont : la Beauce, la Brie

Classement de Janvier. Février

| | | |
|---------------|--------|--------------------------------------|
| Dictée | sur 10 | 6 |
| Question | sur 20 | 8 |
| Calcul | sur 20 | 7 |
| Récitation | sur 10 | 8 $\frac{1}{2}$ |
| Lecture | sur 10 | 3,5 6 |
| Géographie | sur 5 | 3,5 |
| Histoire | sur 5 | 2,5 |
| Observation | sur 5 | 2,5 |
| Précitation | sur 5 | 4 $\frac{1}{4}$ |
| Ecriture | sur 5 | 4 $\frac{1}{2}$, 5 |
| Application | sur 5 | <u>2 $\frac{1}{2}$, 5</u> |
| Total sur 100 | | 54,5 |
| moyenne. | | 5,45 |
| Moyen | | |

Classement: 15° sur 26

signature des parents
élève 0238

Composition de rédaction : mois d'avril

Au marché

Un jeudi ma maman me dit d'aller avec elle au marché. Je m'abille pour venir avec elle. Nous partons au marché à pieds, nous arrivons, et nous ne pouvons même passer parce que la foule nous en empêche. Nous rentrons quand même, et nous voyons des légumes, des fleurs, des vêtements, enfin tout un bazar. Maman commence par les choux, et j'entend derrière moi un marchand de bananes qui crie : « achetez ces belles bananes, elles ne sont pas cher ! » Maman en achète un kilo. Elle m'achète aussi une très belle chemise, et un beau pantalon. En revenant à la maison ma mère m'achète une crème fraîche, et nous revenons à la maison.

Composition d'observation

Le moineau est un oiseau. Son corps est recouvert de plumes. Son bec est dépourvu de dents. La tortue rampe, donc c'est un reptile. Les poissons. La denture des rongeurs est dépourvue de incisives canines.

Composition d'histoire

5
5 Louis XIV était un roi absolu car il désirait tout.
Il fit construire le superbe château de Versailles où il habita
avec sa cour. Son ministre Colbert travailla à enrichir
la France. En 1685 il révoqua l'Édit de Nantes. Louvois
était son ministre de la guerre.

Composition de Géographie

- 2
5
- 1 Quel est le climat de la France? Le climat océanique
 - 2 Lisez les quatre types de climat que nous trouvons en France?
climat à tendance continental, climat montagnard,
 - 3 Quel sont les deux sorte de régions qui reçoivent le plus d'eau?
La Bretagne, La Normandie.

signature des parents
élève 0238

Année 1964-65

Classement de Mars Avril

| | | |
|------------------------|---------|------|
| Calcul | sur 20 | 8,5 |
| Dictée | sur 10 | 0 |
| Question | sur 20 | 13,5 |
| Rédaction | sur 10 | 8,5 |
| Lecture | sur 10 | 8,5 |
| Histoire | sur 5 | 5 |
| Géographie | sur 5 | 2 |
| Observation | sur 5 | 5 |
| Récitation | sur 5 | 3,5 |
| Écriture | sur 5 | 5 |
| Application | sur 3,5 | 3,5 |
| Total | | 62,5 |
| Moyenne | | 62,5 |
| 13 ^e sur 30 | | |
| Assez bien. | | |

Mois de Mai Juin Composition de rédaction

au cirque

Un soir en Algérie, ma famille et moi nous allons au cirque. Nous nous préparons dans le vacarme, et partons très joyeux. Quand nous rentrons monsieur Loyal dirige son orchestre qui joue très bien. Le spectacle commence par les fauves. Le dompteur rentre et salue la foule. Un lion monte sur une chaise et saute le dompteur l'autre se roule par terre, et plusieurs numéros sont faits par les fauves. Les jongleurs arrivent sur la piste, et commencent leur numéro: l'un saute ~~sa~~ sur les mains d'un autre et fait un saut périlleux en avant. Et puis pour finir, les ^v du rire, ce sont les clowns. Ils racontent des choses bêtes et jouent de la musique pour terminer. Nous rentrons chez nous après cette belle soirée.

8,5
10

Composition d'histoire

Le 5 Mai 1789 les députés du tiers se réunissent à Versailles, trois ordres sont représentés. _____, _____, _____.
Le 14 juillet 1789, le peuple de Paris de la forteresse de la Bastille

2,5
5

Les droits des seigneurs sont supprimés durant la nuit du 14 août 1790

Le 20 Septembre 1792 la victoire de Valmy sauve la France

Composition de Géographie

I Où la Seine prend elle sa source?

Citez 4 de ses affluents: ~~Loire~~ Yonne

Où la Loire prend sa source? au mont Gerbier des Jons

2
5 Citez 4 de ses affluents: l'Elbe, le ~~Gers~~, la ~~Loire~~, et la ~~Saône~~

Où la Garonne prend elle sa source? elle prend sa source en Espagne dans petit glacier des Pyrénées

Composition de Géobiosphère

Quels sont les deux grands groupes d'animaux?

Le ~~canard~~ et le ~~chien~~

Citez deux mollusques: la moule et la limasse

Quelles sont les quatre ~~parties~~ d'une fleur? les sépales, les pétales, le

3,5
3

pistil, la ~~tige~~.

Que devient au bout d'un certain moment le
pistil de la fleur de chose? il se transforme en
un fruit

Année 1964-1965

Classement de Mai - Juin

| | | |
|-------------|------|--------|
| Calcul | 10,5 | sur 20 |
| Dictée | 5 | sur 10 |
| Questions | 13 | sur 20 |
| Rédaction | 8,5 | sur 10 |
| Lecture | 8,5 | sur 10 |
| Histoire | 2,5 | sur 5 |
| Géographie | 2 | sur 5 |
| Observation | 3,5 | sur 5 |
| Récitation | 3,5 | sur 5 |
| Écriture | 5 | sur 5 |
| Application | 4 | sur 5 |

66

Total sur 100 points 66

moyenne sur 10 points 6,6

Classement : 11^{ème} sur 34 élèves classe
très bon élève.

signature des parents
élève 0238

Année scolaire 1964-65
Classement général

| | | |
|---------------|-------------------|-------|
| Compositions: | Septembre-Octobre | 6 |
| | Novembre-Décembre | 4,75 |
| | Janvier-Février | 5,45 |
| | Mars - avril | 6,25 |
| | Mai - Juin | 6,6 |
| | | <hr/> |
| | | 29,05 |
| | Moyenne générale | 5,81 |

Classement général: 15ème sur 32 élèves classés

signature des parents
élève 0238

Année scolaire 1965-1966

C. M 2

Samedi, 30 octobre

Rédaction

Une feuille de tilleul, est tombée dans la cour.
Vous la ramassez vous la regardez
Décrivez-la.
Quelle impression fait-elle naître en vous?

J'ai vu une feuille de tilleul tombée dans la cour de l'école. Je l'ai ramassée et je l'ai regardé. Depuis que l'automne est commencé elle a jauni. Elle a des grandes nervures, et des petites taches marrons au milieu. Elle a une odeur sèche et la tige a jauni en même temps que la feuille. Elle me donne l'impression d'un lustre pour mettre dans la cuisine.

Ponctuation défectueuse. Trop de fautes d'orthographe. 4.

Samedi, 6 Novembre

Histoire

- 2 1^o De 1624 à 1642 : qui a gouverné la France?
Le cardinal richelieu a gouverné de 1624 à 1642.
- 1 2^o 1648 : traité de Vesphalie.
- 0 3^o 1659 : fin de la guerre de cent ans.
- 4^o de 1661 à 1715 : qui a gouverné la France:
Louis XIV a gouverné la France de 1661 à 1715
- 2 5^o Qui était Colbert:
Colbert était le plus grand ministre de Louis XIV.

Mardi 9 novembre


Science

1^o Caractères des corps solides.

Les corps solides ont une forme propre qu'on ne peut modifier sans un certain effort.

2^o Caractères des corps liquides.

Les corps liquides ont une forme variable, leurs surface sont toujours plane et horizontale.




3^o Caractères des corps gazeux:

Les corps gazeux ont une forme impropre il sont

élastique

l'air

pousse le fer
qui va arrêter la roue



air comprimé

4.- Les vases communicants




plus la bouteille
et lever plus
l'eau du verre
monte. et ^{no} produit
un jet d'eau


5.- Croquis montrant et expliquant la vaporisation de l'eau par l'ébullition et la condensation de la vapeur d'eau

vent
→

évaporation



condensation



3

Vendredi, 12 novembre

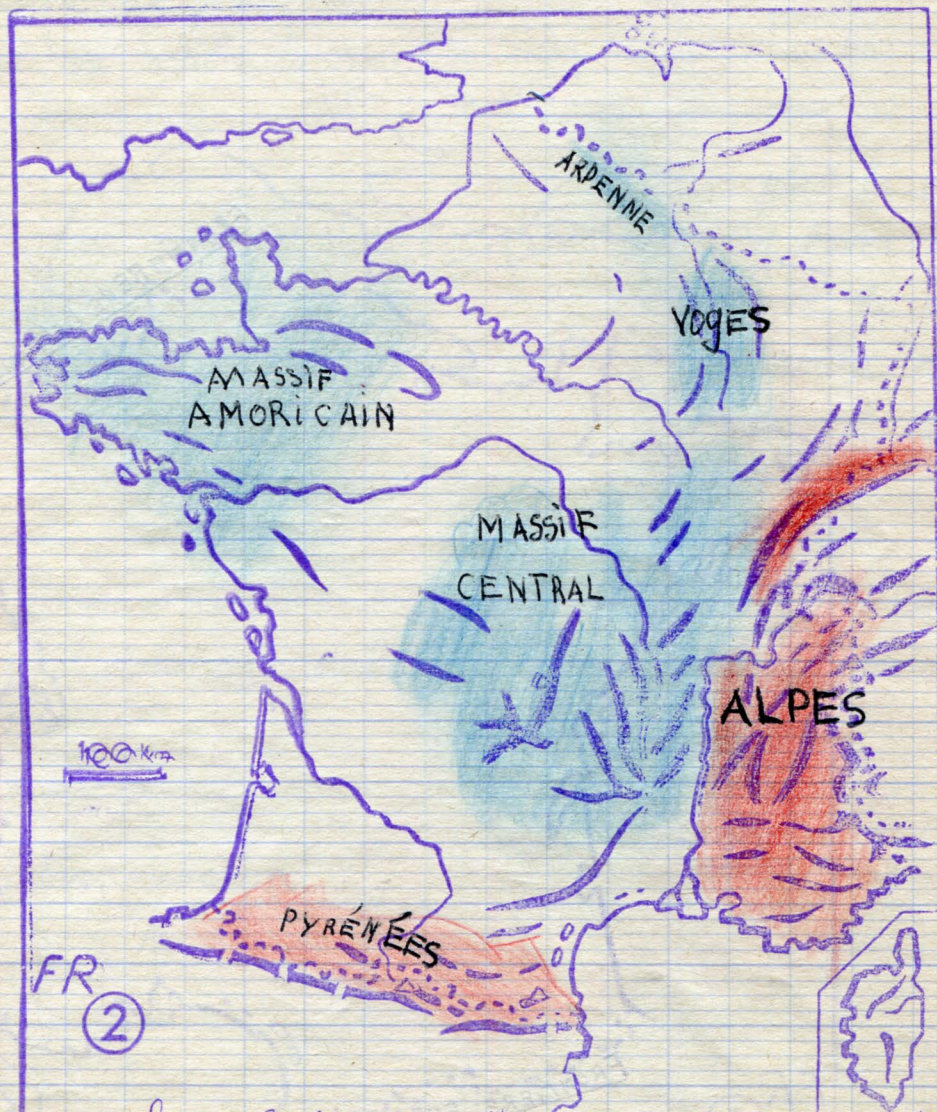
Composition de géographie

1. C'est qu'un plan : et un dessin vu du dessus, il ne donne pas la hauteur représentée de l'objet.



1^{er} carte: la frontière de la France

3,5



2^{en} carte : le relief de la France (les massifs vieux en bleu.)
(les massifs jeunes en rouge.)

5,5

2

2. Qu'est-ce qu'une échelle: l'échelle indique combien de fois on a réduit les dimensions pour faire le plan.

Relevé des notes pour octobre - novembre

Rédaction: 4
Lecture: 7
Récitation: 7
Histoire: 7
Géographie: 5½
Sciences: 3
Application: 4½

Dictée (sur 10): 0
Questions (sur 10): 2
Calcul (sur 20): 6

Moyenne sur 20 des 3 notes ci dessus
4

Moyenne générale sur 10: 4,45
Classement sur 29 élèves: 21^e

Observations:

Résultats insuffisants. Je compte sur une amélioration au prochain classement.

«institut»

signature des parents
élève 0238

35
1
10

Composition d'Histoire

1° Qui avait accordé l'Edit de Nantes?

Les Louis ^{XV} ~~XIV~~ qui a accordé l'Edit de Nantes.

Qui l'a révoqué en quelle année?

C'est Louis XIV en 1715.

2° Citez les noms des grands écrivains du 17^{ème} siècle.

Molière, La Fontaine.

Qu'ont-ils écrit?

Ils ont écrit des contes et des tragédies.

3° - 1766: commencement du règne de Louis XV: 1768: il accorde l'Edit de Nantes.

4° - 1783: fin du règne de Louis XV.

5° - Les grands écrivains et les grands savants du 18^{ème} siècle.

Montesquieu, Voltaire, Rousseau, Buffon, Jaffroy + d'Alembert.

Géographie

Note sur 10: 35

1° Quelle les trois principales sources d'énergie?

se sont: le coûton, la soie, la laine.

2° Où sont situés les principaux bassins houillers français?

il sont situés: en région parisienne, Lorraine Normandie.

3° Comment se appellent les Centrales produisant de l'électricité?

Les centrales s'appellent, les centrales électrométaburgique

4° Où trouve-t-on fer et bauxite en France

On trouve fer et bauxite: en province, à Paris, en Normandie.

5° Quelle sont les principales régions industrielles en France.

la région de Paris, Rouen,

Note sur 10: 4

Mardi, 14 décembre

Trop de fautes.

Rédaction

Noël. Qu'est-ce que ce mot éveille en vous?

Noël pour nous évoque la naissance d'un enfant appelé Jésus. Un homme depuis se jour apporte de beaux jouets aux petits enfants et aussi au grand qui le veulent mais n'y croient pas. Ce petit enfant a été pendant longtemps glorifié et encore maintenant. C'est pour cela qu'il nous rend se grand plaisir de pouvoir jouer.



NOËL

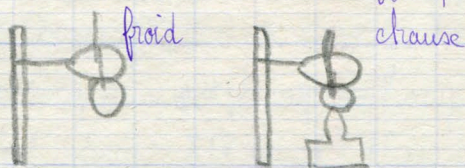
Mardi 14 décembre

Sciences.

4

1° La dilatation des solides.

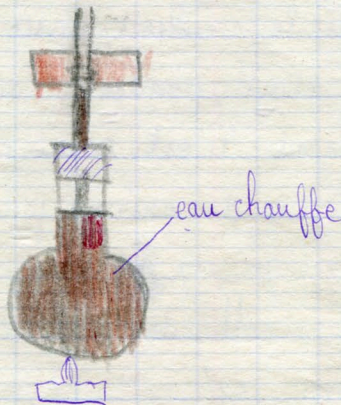
On prend un anneau et un corps solide on passe le corps dans l'anneau et on chauffe, puis le boulet ne plus sortir.



3° Quel est le gaz entrant dans la composition de l'air, qui entretient les combustions et la respiration? C'est l'air.
C'est le gaz carbonique.



2° La dilatation des liquides.



l'eau chauffée monte dans le tube de verre.

4° Que se passe-t-il quand une bougie brûle?

La stéarine fond monte dans un tube et produit du gaz d'éclairage.

5^e Qu'est que la rouille ?

La rouille vient d'un métal appelé fer, au bout de 2 ans on la voit sur le fer, il faut de la grâce pour protéger la rouille.

Relevé des notes de décembre

| | | | |
|--------------|-------|---------------------------------------|-------|
| Rédaction: | 4 | Dictée: (sur 10) | 0 |
| Lecture | 7 1/2 | Question: (sur 10) | 4 1/2 |
| Création: | 6 | Calcul: (sur 20) | 7 1/2 |
| Histoire: | 3,5 | | |
| Géographie | 2,5 | Moyenne sur 20 des 3 notes ci dessus: | |
| Science | 4 | | 6 |
| Application: | 6 | | |

Moyenne général sur 10 : 4,13
Classement sur 29 élèves : 23^e

Observation

Insuffisant

«institut»

Résultats médiocres. A l'aise
ce mois-ci. Tendance à braver.

«institut»

signature des parents
élève 0238

Rédaction

Vous avez assisté à un spectacle (théâtre, cirque, cinéma) qui vous a particulièrement intéressé. Racontez.

à cirque

en lettres

Un soir vers 9 heures du soir, ma famille et moi-même avons décidé d'aller au cirque. Nous nous préparons dans le vacarme, et partons tout joyeux. Dehors, il faisait déjà nuit car les jours étaient courts. Quand nous rentrons, Monsieur Loyal dirige son orchestre qui joue très bien. Le spectacle commence par les fauves. Le dompteur rentre et salue la foule qui l'applaudit. Un lion monte sur une chaise et saute le dompteur, L'autre se roule par terre et plusieurs tours faits par les fauves. Les jongleurs arrivent sur la piste, et commencent leur numéro: L'un saute sur la main de l'autre et fait un saut périlleux en avant. ~~En~~ Et pour finir, les rois du rire, Les clowns. Ils racontent des histoires amusantes, ils jouent de la musique pour terminer. Nous rentrons chez

obscur

5,5

Mous après cette belle soirée
Des fautes certainement d'écriture. Devoir assez bien construit,
le numéro des fautes semble obscur.

5

l'histoire

1° En combien de catégories sont divisés le Français en 1789?
Citez les. Qui étaient les privilèges? Que désiraient ceux
qui ne l'étaient pas?

1,5

Les Français sont divisés en 3 catégories: Le clergé,
le tiers état, la noblesse. Les privilèges sont, les prêtres, et les
clergés bourgeois. Se qui ne l'étaient pas ne voulaient pas la
royauté absolue.

2° Date de la prise de la Bastille? Pourquoi de nos jours,
célèbre t-on l'anniversaire et cet événement?

1

La Bastille fut prise le 14 juillet 1789. De nos
jours nous célébrons cet événement parce que cela a sauvé la
France.

3° Quelle fut l'œuvre de la constitution?

0,5

L'assemblée fit une constitution en 1790. après

4° 10 août 1792: L'assemblée constituante a fait ~~une~~ supprimés les
✗ privilèges

2

5°: 20 septembre 1792: bataille de valmy. bataille de valmy.

8

Géographie

Quelle est la densité de la population Française?

~~48 millions d'habitants~~ 87 habitant au km².

Marquez, sur la carte, les agglomérations principales.



3° Quel produit la France achète à l'étranger?
du cahouchou, charbon, conton, laine etc

3° Quel produit la France vend à l'étranger.
Certains produit de son agriculture.

4° L'administration de la France?

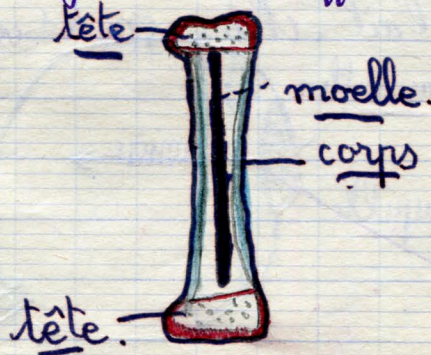
La France compte 90 départements ayant
chacun une préfecture et ou réside le préfé.

Les départements sont divisés en arrondissement, les arrondissement sont partagés en canton. les canton groupent les commune.

5° Les principaux ports de commerce?
marseille, bordeaux, le havre.

Science

1° Dessiner un os long coupé dans les sens de la longueur. Notez en les différentes parties.

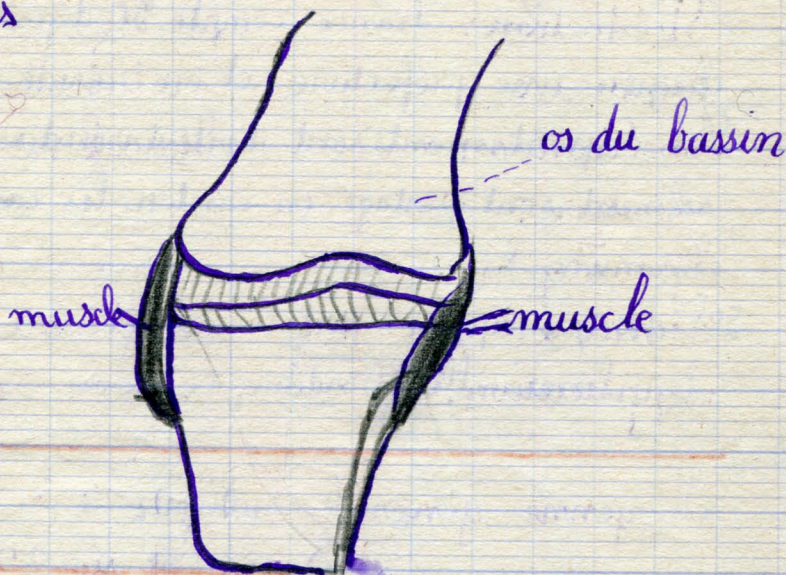


2^o Quelle est la partie la plus importante de l'os pour quoi?

La partie la plus importante de l'os est le périoste.

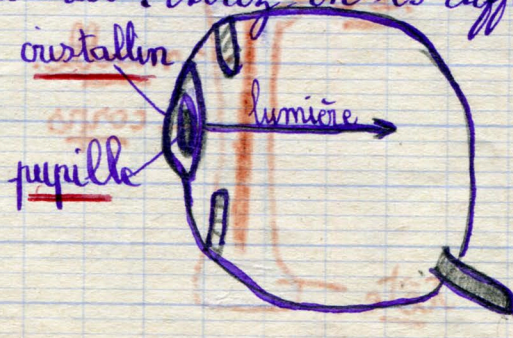
3^o Grâce à quoi les os peuvent se mouvoir les uns sur les autres? Croquis d'une articulation.

Les os peuvent se mouvoir grâce aux articulation des muscles



3^o L'articulation de la hanche

4^o Croquis de l'œil : étiquetez en les différentes parties.



L'œil est l'organe de la vue

5. Dites ce que vous savez de l'oreille?
L'oreille et l'organe de l'ouïe.

Relevé des notes pour janvier - février

Rédaction: $5\frac{1}{2}$

Lecture: 6

Récitation: 4

Histoire: 5

Géographie: 8

Science: 2

Application: $8\frac{1}{2}$

Dictée: (sur 10) 0

Questions: (sur 10) $6\frac{1}{2}$

Calcul: (sur 20) 0

Moyenne sur 20 des 3 notes
ci-dessous: 3,25

Moyenne général sur 10: 4,13

Classement sur 29 élèves: 21^e

Observations:

Elève soigneux mais qui ne sait pas toujours
organiser son travail. Cela a été le cas à la
composition de calcul.

«instit»

signature des parents
élève 0238

Mois de mars 1966

Rédaction

Un soir vous rentrez à la maison nettement plus tard qu'à l'ordinaire. On vous demande des explications... Racontez.

Travail soigné. Quelques tournures agréables mais aussi malheureusement quelques phrases obscures. L'imparfait ne convenait pas du tout dans ce récit.

5½

Un soir, ne sachant point, l'heure, je rentrais à la maison tout heureux de ma belle journée. J'ouvrais la porte, et, je voyais mes parents remplis d'^aangoisse.

Quelques secondes plus tard ils me posaient des questions étranges, dont je ne comprenais pas ^{bien le sens} ~~un~~ mot. Ils me disaient : « Pourquoi ^{heures} ~~viens~~ tu si tard ! » Je ne pouvais répondre, ne comprenant rien. Je regardais l'heure ~~et~~, je distinguais l'heure d'hier à celle du jour même, il était sept heures et je devais rentrer à 6 heures ^{et}

pas d'air
en lettres

phrase mal tournée

et demis. Je me faisait gronder très fort.
Mon papa m'avait punis pour deux
jours sans regarder la télévision. Pen-
dant ces deux jours je travaillais, mais
quelques fois ma maman, en cachette de
mon papa, me laissait ~~la~~ regarder
la télévision.

Note: 7.

Histoire

1. Quel fut le principal résultat de la révolution de 1830? et de la révolution de 1848?
2. Comment Napoléon III put-il devenir empereur? Comment son règne prit-il fin?
3. Que vous rappellent les dates: 5 mai 1789, 14 juillet 1789, 10 août 1792, 20 septembre 1792.

Réponse

1. Le principal résultat de la révolution de 1830 est, les trois glorieuses. Le principal résultat de la révolution de 1848 fut qu'il n'y a plus eut de roi en France.
2. Napoléon III est devenu empereur en faisant un coup.

2 d'état. Napoléon III fut prisonnier à Sedan et son règne pris fin.

3. 5 mai 1789: réunion des états généraux

14 juillet 1789: prise de la Bastille

10 août 1792: chute de la royauté.

20 septembre 1792: victoire de Valmy.

Note: 5!

Géographie

1 Complétez les phrases suivantes:

a) La Seine prend sa source au plateau de Langres à 471 m d'altitude et se jette dans la Manche par un estuaire.

b) La Loire prend sa source au mont Gerbier des jons à 1800 m d'altitude et se jette dans l'Océan Atlantique.

c) La Garonne prend sa source dans le glacier de Malagenta en Espagne à 1307 m d'altitude et se jette dans l'Océan Atlantique par un estuaire appelé Gironde.

d) Le Rhône prend sa source au mont saint Gortard à m d'altitude et se jette dans la Méditerranée.

2) Citez deux villes traversées par la Loire et deux villes traversées par le Rhône

- 1 1/2
- a) La Loire passe à Nantes et Saint Nazaire.
 - b) Le Rhône passe à Arvignion et à

3) Citez deux affluents rive gauche de la Loire et deux affluents rive droite de la Garonne.

- 0
- a) La Loire reçoit à gauche
 - b) La Garonne reçoit.

Note: 2/

Sciences

1. a) Quels sont les organes qui font partie de l'appareil digestif?

b) Quels sont les liquides ou sucs divers qui contribuent à la digestion des aliments?

1 1/2 Les organes qui font partie de l'appareil digestif sont: l'estomac et l'intestin

0 b) Les liquides ou sucs qui contribuent à la digestion des aliments sont: les liquides qui ne contiennent pas d'alcool, ou le lait d'une vache tuberculeuse.

2 a) Où pas l'air que nous respirons?

b) Citez quelques règles d'hygiène de la respiration.

1 a) L'air que nous respirons passe par les poumons

b) je citerai : les sports, la santé, et la culture physique.

Relevé des notes pour février-mars 1966

Rédaction: $5\frac{1}{2}$
Lecture: 7
Récitation: $7\frac{1}{2}$
Histoire: 7
Géographie: $5\frac{1}{2}$
Sciences: 2
Application: 9

Dictée: (sur 10) 8
Question: (sur 10) $7\frac{1}{2}$
Calcul: (sur 20) 11

Moyenne sur 20 des 3
notes ci-dessus: $13,25$

Moyenne générale sur 10: $6,09$

Classement sur 30 élèves: 14^e

Observations

Des progrès dans l'ensemble.

«institut»

signature des parents
élève 0238


Monday August 1st 1880

Went to school
at 8 o'clock
and stayed till 12 o'clock

Went to school
at 1 o'clock
and stayed till 4 o'clock

Went to school
at 8 o'clock
and stayed till 12 o'clock

Went to school
at 1 o'clock
and stayed till 4 o'clock



Went to school
at 8 o'clock
and stayed till 12 o'clock



